



I KOLOKVIJUM – Osnovi ekonomije –

GRUPA A

IME I PREZIME: _____ INDEKS: _____ GRUPA _____ S / P 15 / 17

TEST IMA UKUPNO 100 (+ 12) POENA. Svako pitanje nosi 4 poena. Na osnovu dobijenih podataka studenti trebaju da ucrtaju grafikon i daju komentar. Gde je potrebno dopisati tacan odgovor, ukoliko imate dva prazna mesta, svako popunjeno nosi 2 poena, a ukoliko imate 4 prazna mesta svako tacno popunjena praznina nosi 1 poen. Isto pravilo vazi za pitanja gde se zaokružuje istinitost tvrdnje. Pitanje koja su posebno oznacena, pored 4 poena uz adekvatan primer daju mogucnost bonus poena koji vam mogu pomoci da dodjete do potrebnog nivoa prolaznosti ili vece ocene.

Prolaznost na testu obezbedjuje 50 poena. Vreme koje je predvidjeno za test je 1h 30

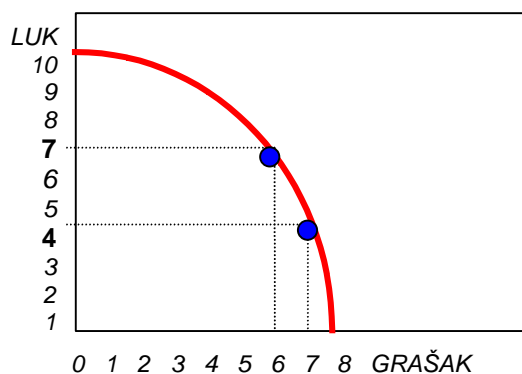
6 50 –60 7 61 –70 8 71 –80 9 81 –90 10 91 – i više

1. Razlika izmedju materijalnih dobara i robe je u tome što:

2. Dva ključna pojma za definisanje ekonomske aktivnosti prema neoklasicnoj školi su:

- a) oskudnost
- b) materijalno dobro
- c) izbor
- d) raspodela

3. Oportunitetni trošak jedne robe jeste gubitak kolicine neke druge robe koja se mora žrtvovati radi proizvodnje prve robe. Prema datom grafikonu oportunitetni trošak proizvodnje dodatnog kilograma graška je ____kg luka.



4. Osecite mogucu proizvodnju na prethodnom grafikonu. O kojoj je krivi zapravo rec

5. Resursi su subjektivni i materijalni cinici proizvodnje, odnosno to su

- a) _____
- b) _____
- c) _____

6. Dva nacina ispoljavanja hijerarhijskih odnosa u privredi su putem izdavanja naredbi i donošenjem opštih pravila ponašanja

tacno / netacno

Ekonomska nauka je deduktivna zato što zakljucke izvlati bez prethodno utvrdjenih polaznih premisa

tacno / netacno

7. Troškovi kapitala su zbir materijalnih troškova i amortizacije, puni troškovi kapitala uracunavaju i _____.

8. Ulozi u D.O.O. mogu biti u novcu, stvarima i materijalnim pravima

tacno / netacno

Javno preduzece je državno preduzece koje proizvodi javna dobra i pruža javne usluge

tacno / netacno

9. Upišite nekoliko stavki u bilans uspeha tako da preduzece **posluje sa gubitkom**

<i>prihodi</i>	<i>Bilans uspeha</i>	<i>rashodi</i>

10. Dopunite sledece recenice

a) Tržište definišemo kao

b) Cena predstavlja

11. Selektivna funkcija tržišta odnosi se na izabiranje-selekciju informacija sa tržišta


tacno / netacno

Na tržištu se ex post proverava opravdanost privrednih odluka

tacno / netacno

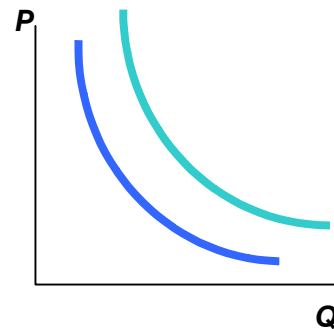
12. Na osnovu tabele nacrtaj grafikon

<i>cena</i>	<i>kolicina u kom.</i>
1	5
2	8
5	12
8	18
11	32
17	50



ako je pri ceni od 11 din tražena kolicina 18 kom tada na tržištu postoji _____.

13. U kom smeru ce se pomeriti kriva tražnje u slucaju da cena komplementarne robe raste (ucrtati strelicu na grafikonu)



14. Dve karakteristike uspostavljanja ravnoteže u uslovima potpune konkurencije su

- a) neminovnost prilagodjavanja privrednih subjekata izmenjenim privrednim okolnostima
- b) potrošacki višak ne postoji
- c) ostvaruje se maksimalni iznos društvenog blagostanja
- d) prilagodjavanje se vrši direktivama

15. Zaokruži ekonomske funkcije koje je na sebe preuzela država blagostanja

- a) privredni subjekt koji prodaje i kupuje robe
- b) regulator privredne aktivnosti
- c) socijalna zaštita ugroženih
- d) alocira oskudne resurse

16. Navedi oblike državne intervencije (bar 3)

- a) _____
- b) _____
- c) _____
- d) _____
- e) _____

17. Ekonomija obima predstavlja smanjivanje fiksnih troškova na osnovu proizvodnje u velikim serijama

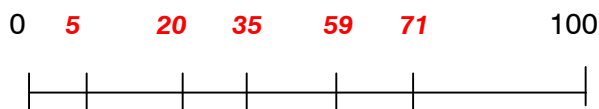
tacno / netacno

Prirodni monopol se javlja u slučaju postizanja ekonomije obima na relativno malom tržištu. SR Jugoslavija je dobar primer gde svaka efikasnija proizvodnja može da se razvije u prirodni monopol

tacno / netacno

18. Šta država obično zabranjuje po pitanju monopola (navesti nekoliko zabrana)

19. Koji predlog će biti izglasan **20 ili 55%** budžeta za vojne namene ako su preferencije 5 biraca prikazane na grafikonu (zaokruži tačan odgovor)



20. Svojina se sastoji iz tri grupe ovlašćenja

- a) _____
- b) _____
- c) _____

21. Titular svojine mora da ima sva tri navedena ovlašćenja

tacno / netacno

Rezidualni poverilac je onaj koji u slučaju stečaja ima pravo da prvi namiri svoje obaveze

tacno / netacno

Rezidualni poverioci privatnu svojину prenose putem tržišta a kolektivnu na vantržišni način

tacno / netacno

U društvenom preduzeću radnici imaju pravo na prisvajanje dela dobiti, pravo rezidualnih poverilaca i pravo na postavljanje vlasničkih uslova

tacno / netacno

22. Prihod od prodaje akcija sa popustom ili bez popusta radi prodaje preduzeća odlazi u _____, dok prihod od dokapitalizacije ide _____

23. Kao osnovni razlozi za privatizaciju navode se:

- a) _____
- b) _____
- c) _____
- d) _____

24. Podržavljenje predstavlja pretvaranje _____

25. Na koji način država može da usmerava alokaciju resursa na tržištu (dobro objašnjenje donosi 12 poena)

odgovor napisite na praznom prostoru ove ili sledeće strane.

Broj poena